


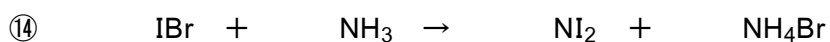
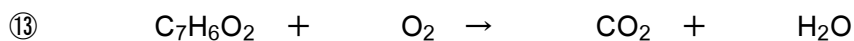
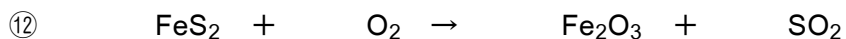
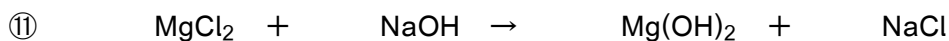

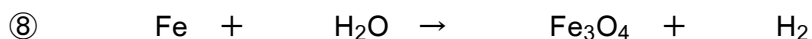
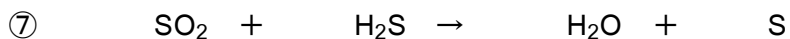


1 次の反応式に係数をつけて完成せよ。“1”は書かなくてよい。すべての係数が“1”の場合もある。



※ 係数が決まったら、各原子の左辺の個数と右辺の個数が一致しているかを確認して下さい。一致していれば、恐らく正解です。係数は最も簡単な整数比になるように調整して下さい。よって、分数や少数も使えません。